

Alle Zahlen

0,3	0,50	1	1,6	2
Ab dieser Blutalkoholkonzentration ist mit einer Beeinträchtigung der Fahrtüchtigkeit zu rechnen	Darf die Ladung in einer Höhe von 2,50 nach vorne über das Fahrzeug hinaus ragen	Wenn die Ladung um mehr als ... m nach hinten hinaus ragt muss sie gekennzeichnet werden	So viel Profil (in mm) müssen Reifen mind. haben	Nach wie viel Jahren muss ein Pkw (kein Neufahrzeug, Ottomotor, G-Kat) zur Abgasuntersuchung (AU)
		Nach wie viel Jahren muss ein Pkw (kein Neufahrzeug, Ottomotor, kein Kat) zur Abgasuntersuchung (AU)		So lange dauert die Probezeit
		Ein Drogenabhängiger gilt erst dann wieder als geeignet zum Führen von Kfz wenn er nachweisbar so lange (in Jahren) drogenfrei ist		Nach wie viel Jahren muss ein Pkw (kein Neufahrzeug, Dieselmotor) zur Abgasuntersuchung (AU)
				Nach wie viel Jahren muss ein Pkw (kein Neufahrzeug) zur Hauptuntersuchung (TÜV)

2,50	2,55	2,8	3	3,5
Muss die Höhe betrage vom Boden bis zur Ladung wenn die Ladung nach vorne hinaus ragen soll	Breiter darf ein Fahrzeug einschließlich der Ladung nicht sein	Bis zu dieser zulässigen Gesamtmasse in Tonnen dürfen Fahrzeuge auf besonders gekennzeichneten Gehwegen geparkt werden.	So viel Meter Abstand muss mind. Zwischen Ihrem Fahrzeug und der Fahrstreifenbegrenzung (durchgezogene Linie) sein, wenn Sie hier parken wollen	Kfz bis zu diesem Gesamtgewicht dürfen Innerorts den Fahrstreifen frei wählen
			Wenn Busse nicht behindert werden darf man an einer Haltestellen	Pkw und Lkw bis zu diesem Gesamtgewicht dürfen Sie mit




			höchstens ... min halten	dem Führerschein der Klasse B fahren
			Sie fahren Innerorts mit 50 km/h. Wie viel PKW Längen sollen Sie als Mindestabstand einhalten ?	
			Bei nur 10 km/h ist Ihr Reaktionsweg so lange	
			Wer länger als... min hält der parkt	

4	5	7	8	10
Wenn Sie wegen eines Verstoßes ein Aufbauseminar besuchen müssen, verlängert sich die Probezeit auf so viele Jahre	So weit muss man vor und hinter Einmündungen u. Kreuzungen zum Parken entfernt bleiben	Sie fahren mit einem Pkw u. Anhänger auf der Autobahn mit drei Fahrstreifen für Ihre Richtung. Ab ...m dürfen Sie den linken Fahrstreifen nicht mehr benutzen	Bis zu diesem Alter <u>müssen</u> Kinder mit dem Fahrrad den Gehweg benutzen	Bis zu diesem Alter <u>dürfen</u> Kinder mit dem Fahrrad den Gehweg benutzen
Höher darf ein Fahrzeug einschließlich Ladung nicht sein	Wer am Zebrastreifen halten will muss mind.m davor anhalten	Bei Schritttempo darf man nicht schneller als....km/h fahren		Andreaskreuz; Vorfahrt gewähren; Halt! Vorfahrt gewähren und Ampel. Mind.....m Abstand wenn das Fahrzeug die Zeichen verdecken würde.
Bei 10 km/h ist der Anhalteweg nach der Faustformel schon so lange	Wer Innerorts am Andreaskreuz halten will muss mind. ... m Abstand halten	Ist ein Pkw u. Anhänger länger alsm, muss er außerhalb der Ortschaft zum Vorausfahrenden einen so großen		Bei 20 km/h beträgt der Anhalteweg nach der Faustformel so viel Meter

		Abstand einhalten, dass ein überholendes Fahrzeug einscheren kann		
Wenn Sie die Geschwindigkeit verdoppeln, wird der Bremsweg ... so lang		Verkehrsberuhigter Bereich max. km/h		So viel Stunden dauert es im allg. bis 1,0 Promille Alkohol im Blut abgebaut ist.
Bei doppelter Geschwindigkeit wird die Fliehkraft ... so groß				

15	25	40	50	60
So weit darf man vor und hinter einer Haltestelle nicht parken	Auf einer sehr schmalen Straße haben Sie 50 m Sichtweite. Wie viel Meter darf Ihr Anhalteweg höchstens sein.	Auf einer sehr schmalen Straße haben Sie 80 m Sichtweite. Wie viel Meter darf Ihr Anhalteweg höchstens sein.	Wenn durch Nebel, Regen oder Schneefall die Sichtweite geringer als 50 m ist, dürfen Sie höchstens 50 km/h schnell fahren	Sie fahren auf der Autobahn mit 120 km/h. Wie viel Meter beträgt der Abstand nach der Regel „halber Tacho“?
Sie fahren mit 50 km/h. Wie viel Meter ist Ihr Reaktionsweg.	So viel Meter beträgt der Bremsweg bei 50 km/h	Sie fahren auf der Landstraße mit 80 km/h hinter einem Lkw. Wie viel Meter halten Sie in der Regel „halber Tacho“ ein ?	Der Abstand zwischen den Leitpfosten beträgt in der Regel so viel Meter	Sie fahren auf der Landstraße mit 100 km/h Wenn Sie den 2 Sek. Abstand einhalten, sind Sie vom vorausfahrenden Fahrzeug so viel Meter entfernt
So viel Meter Abstand müssen Sie Innerorts bei Tempo 50 km/h zu einem vorausfahrenden Fhrzg. Mindestens einhalten		Wie viel Meter beträgt nach er Faustformel Ihr Anhalteweg bei einer Geschw. von 50 km/h	Mit Schneeketten darf man höchstenskm/h fahren	 Wer hier fahren will muss gem. der Fahrzeugpapiere schneller als km/h fahren

			An der Ortstafel darf man nur nochkm/h fahren	
--	--	--	----------------------------------------------------	--

80	100
<p>Auf einer Kraftfahrstrassen steht dieses Zeichen.</p>  <p>Wie schnell dürfen Sie mit einem Pkw mit Anhänger höchstens fahren ?</p>	<p>Höchstens so schnell dürfen Sie mit einem Lkw (z. G. 3,0 t) Außerorts auf Straßen mit einem Fahrstreifen für jede Richtung fahren</p>
<p>Sie fahren mit einem Lkw mit einer zulässigen Gesamtmasse von 3,0t mit Anhänger. Wie schnell dürfen Sie hier  höchsten fahren ?</p>	<p>Diese Höchstgeschwindigkeit gilt in der Regel auf Landstraßen (ein Fahrstreifen für jede Richtung)</p>
<p>Sie fahren mit einem Lkw mit einer zulässigen Gesamtmasse von 3,0t mit Anhänger. Wie schnell dürfen Sie auf einer Landstraße höchstens fahren ?</p>	<p>So viel Meter beträgt der Bremsweg bei 100 km/h</p>
<p>Sie fahren einen Pkw mit Anhänger. Wie schnell dürfen Sie hier  höchsten fahren ?</p>	